


























# あさがおが いっぱい さいたよ

(しらべた ばしょ こうてい)

(こ)						
6						
5						
は						
4						
な						
の						
3						
か						
2						
す						
1						
0						
てんき	は れ	くもり	は れ	は れ	あ め	は れ
しらべた日 (ごぜん9じ)	7月5日	7月6日	7月7日	7月8日	7月9日	7月10日

ひだりの えをみて きがついたことを かきましょう。

① 7月5日に あさがおは なんこさきましたか。

② あさがおが 3こさいたのは なん月なん日ですか。

③ あさがおが いちばんおおくさいた日は なん月なん日ですか。

④ しらべている あいだの てんきを かきましょう。

はれの日  日

くもりの日  日

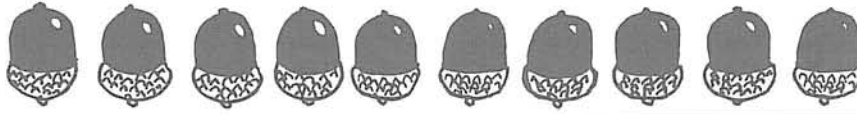
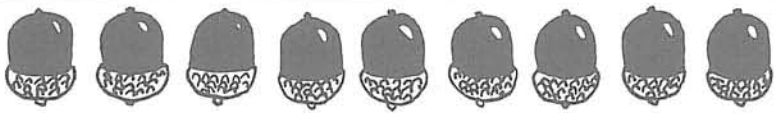
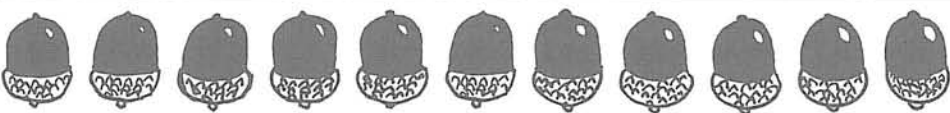
あめの日  日

そのほかに きがついたことを かきましょう。

# こうえんのひみつをさぐるう


—どんぐり みつけた—

- ① こうえんで どんぐりを みつけました。  
ひろった どんぐりの かずを したのひょうのように まとめました。

なまえ	ひろったどんぐり
まさおさん	
みゆきさん	
かずおさん	

- ② みゆきさん かずおさんが どんぐりを どれだけひろったか かずをかきいれましょう。

なまえ	ひろったどんぐり(こ)
まさおさん	10
みゆきさん	
かずおさん	




- ③ このひょうから どんなことが わかりますか。

- ④ こうえんには どんぐりだけでなく ほかにも いろいろな 木のみや花やは  
 っぱが たくさんみつかります。ともだちとみつけて だれがたくさんひろっ  
 たか 下のひょうに まとめてみましょう。

( ) あつめ

な ま え	ひろった ( )



な ま え	ひろった ( ) (こ)

# じゃんけん つよいの だあれ

3にんで じゃんけんを しました。  
チャンピオンは だれでしょう。



3にんが 、、 をだしたときは  
あいこで やりなおしました。

10			
9			
8			
7			
6			
5			
4			
3			
2			
1			
	はなえさん	まことさん	みかこさん

① 勝ちを ○で まけを ×で あらわしましょう。

	1	2	3	4	5	6	7	8	9	10
はなえさん	×	○								
まことさん	×	×								
みかこさん	○	×								






② かの かずだけ ○を  
かきましょう。

③ みかこさんは ぐう ちょき ぱあの  
どれが すきでしょう。だしたかずを  
○で あらわしましょう。

じゃんけん ちゃんぴおん

はなえ	まこと	みかこ


		

④ まことさん はなえさんは ぐう ちょき ぱあの どれを おおく  
だしますか。③のみかこさんと おなじように ぐらふに あらわし  
ましょう。

⑤ みなさんも じゃんけん ちゃんぴおんを きめましょう。

# たんじょう日 おめでとう あなたはなん月うまれ

がつ



たんじょうかいを するために たんじょうれっしゃを つくりました。  
だれが なん<sup>がつ</sup>月うまれか よくわかります。  
みなさんも れっしゃに のってみましょう。

- ① たんじょうれっしゃをみて うまれた<sup>つき</sup>月の人ずうを したのひょうに かきま  
しょう。

## うまれた<sup>つき</sup>月しらべ

ねん 月 日  
1ねん1くみ 28人


4月	5月	6月	7月	8月	9月	10月	11月	12月	1月	2月	3月

- うまれた人が いちばん おおいは なん月ですか。  
また なん人ですか。

○月で○人

- うまれた人が 3人の<sup>つき</sup>月は なん月ですか。

○月と○月



ほかに  
うまれた  
ひとなん  
人か

りょうた

② なん月に なん<sup>がつ</sup>人 うまれましたか。○をつかって グラフに あらわしましょう。

## うまれた<sup>つき</sup>月しらべ

1ねん1くみ 28人

○											
○											
4月	5月	6月	7月	8月	9月	10月	11月	12月	1月	2月	3月

● うまれた人が ひとりの<sup>つき</sup>月はなん<sup>がつ</sup>月ですか。

○<sup>がつ</sup>月と ○<sup>がつ</sup>月と ○<sup>がつ</sup>月

ほかに  
まがったことを  
はびょうしましょう。

